

Aktualne materiały dla dzieci

Wydawnictwo Mac Edukacja udostępniło bezpłatne karty dla dzieci.

Wybrane karty można wydrukować www.mac.pl/publikacje

Obowiązujące karty w gr V:

- Nowe przygody Olka i Ady „Litery i liczby cz. 2” od str. 34...

- Nowe przygody Olka i Ady „Karty pracy cz. 3 5/6l [BB+]” od str. 46...

Zachęcamy do skorzystania z nich. Można również skorzystać z materiałów opracowanych poniżej:

spółgłoska

ł Ł

l Ł



ła-ta

l a t a

łata

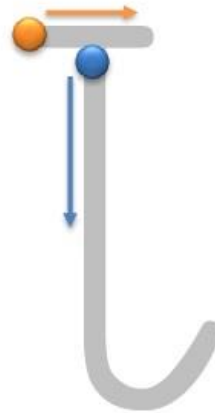
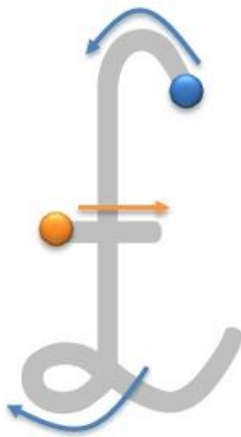
Ł

ł

Spróbuj odnaleźć drukowane literki Ł, ł.

IdKłbalłzriŁwnŁiscłmelŁogtł
łŁzfdŁłkLłlpŁstrEŁhcłŁbwŁupłłja

Napisz palcem po śladzie litery ł, l.

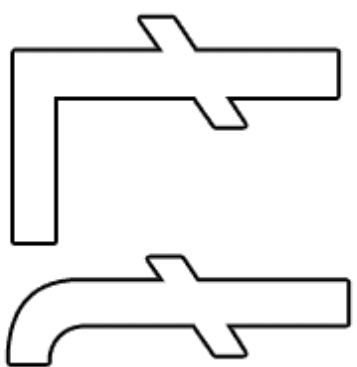


Spróbuj odnaleźć pisane litery ł, l.

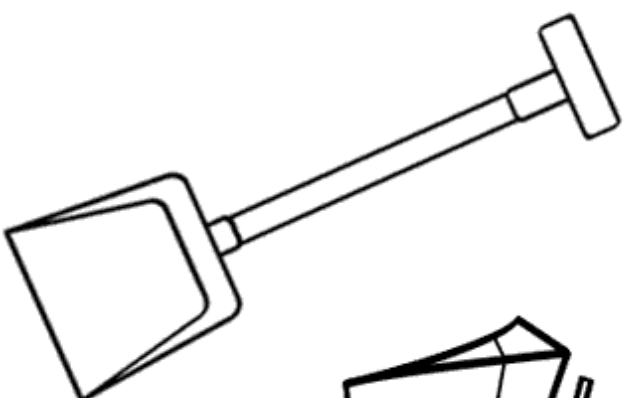
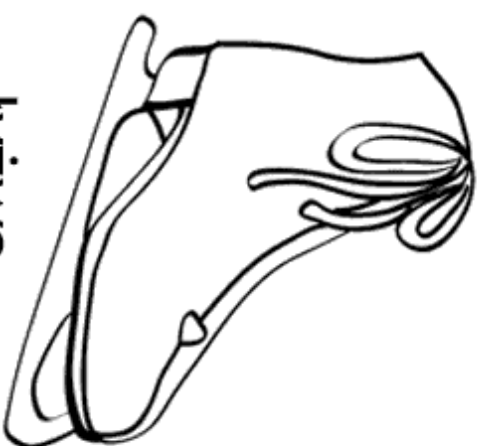




łoś



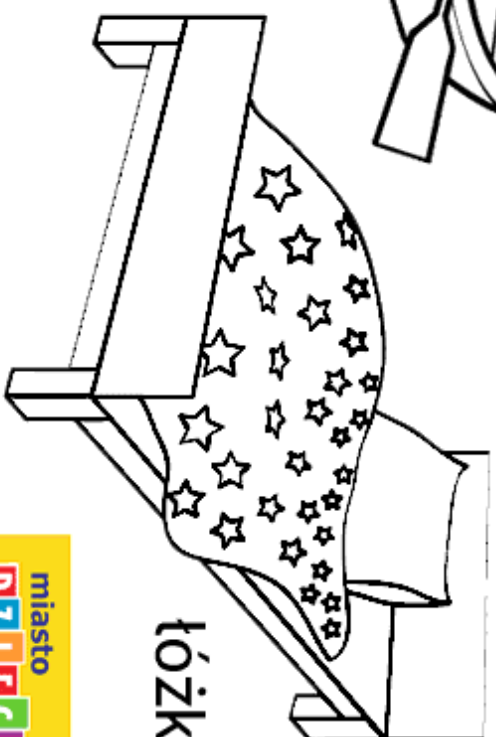
łyżwa



łopata



łódź



łóżko

£ £

£ £ £ £ £ £ £ £ £ £ £ £ £ £ £

£ £ £ £ £ £ £ £ £ £ £ £ £ £ £

£ £ £ £ £ £ £ £ £ £ £ £ £ £ £

£ £ £ £ £ £ £ £ £ £ £ £ £ £ £

£ £ £ £ £ £ £ £ £ £ £ £ £ £ £

£ £ £ £ £ £ £ £ £ £ £ £ £ £ £

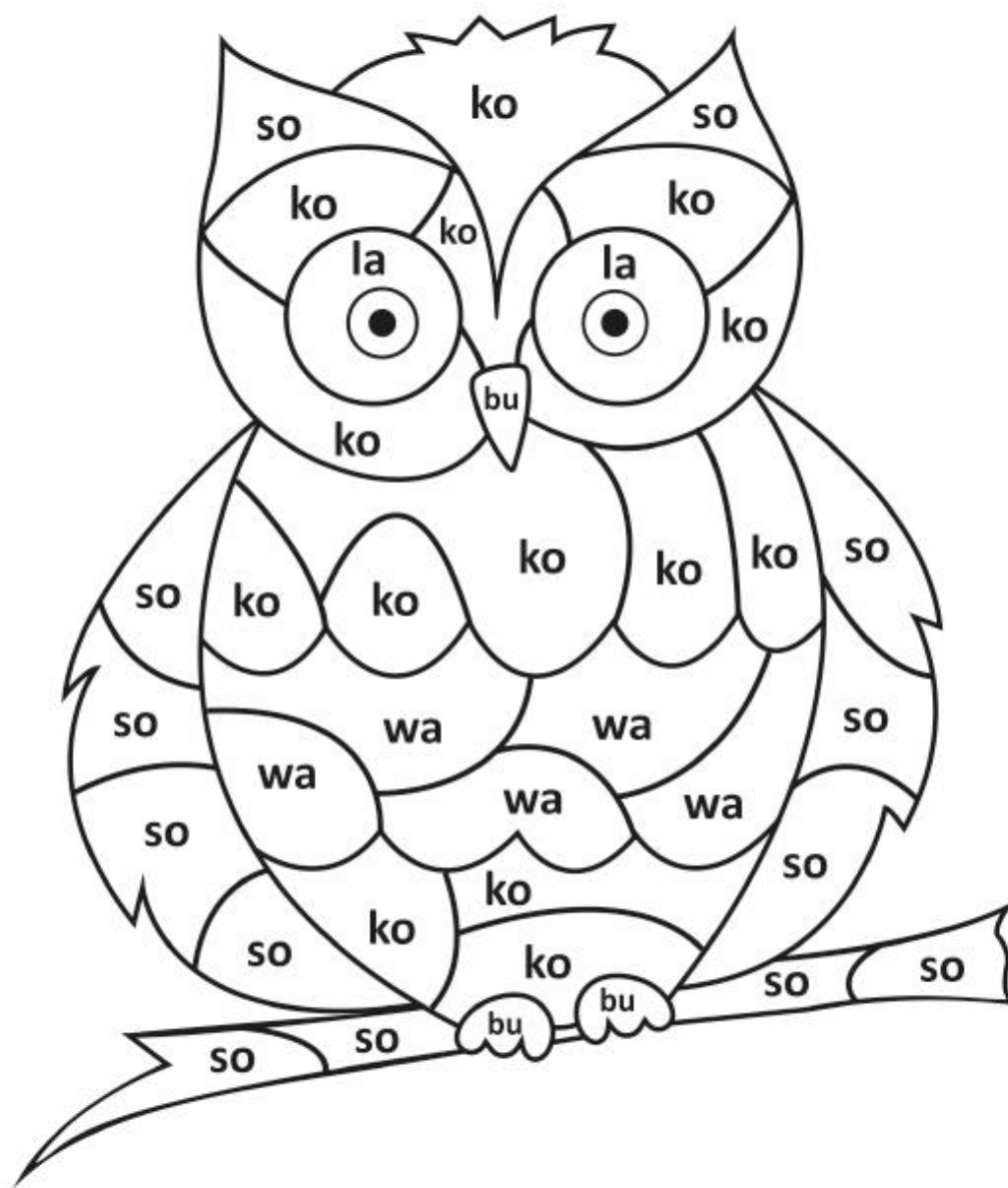
£ £ £ £ £ £

£ £ £ £ £ £

£ £ £ £ £ £

► Pokoloruj według zasady:

la – żółty so – brązowy bu – czarny
ko – zielony wa – pomarańczowy





Download from
Dreamstime.com

This watermarked comp image is for previewing purposes only.



ID 92595640

© Carla Francesca Castagno | Dreamstime.com

Dodawanie w zakresie 0 - 10.

1. Uzupełnij działania według podanego schematu.

$3 + \square = 5$



$2 + \square = 6$



$5 + \square = 8$



$6 + \square = 7$



$1 + \square = 4$



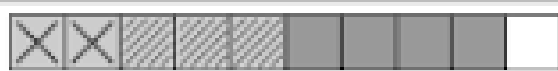
$4 + \square = 10$



$9 + \square = 9$



2. Uzupełnij grafy.



$+$



$+$

$2 + \square + \square = 9 = 2 + \square$



$+$



$+$

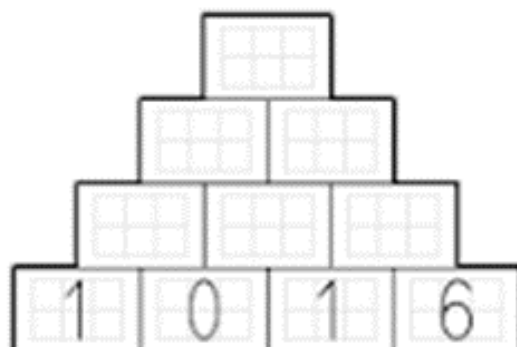
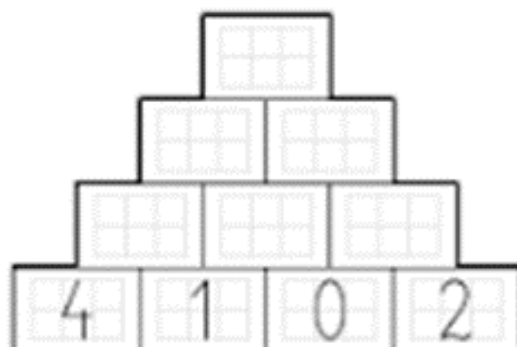
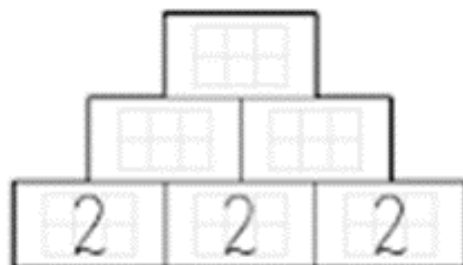
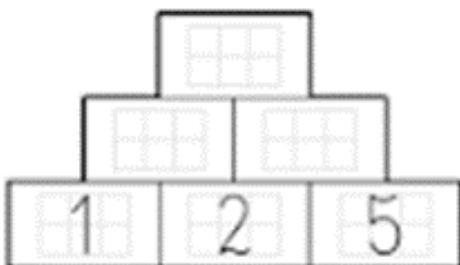
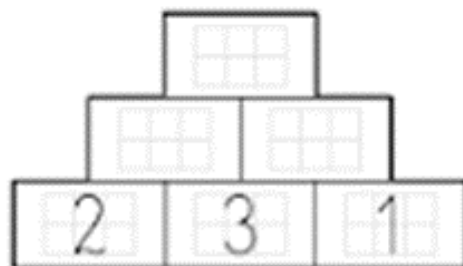
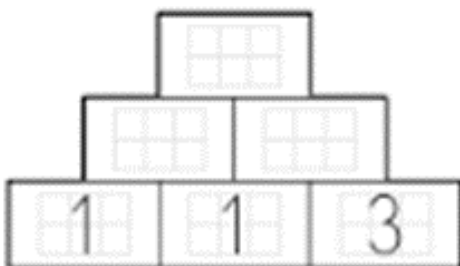
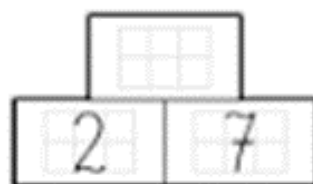
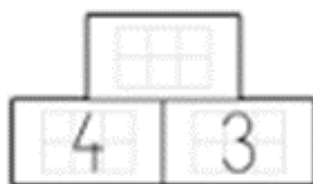
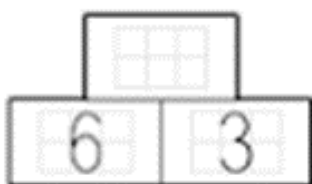
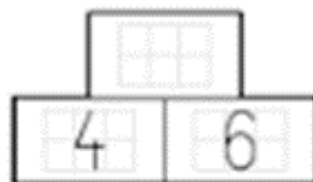
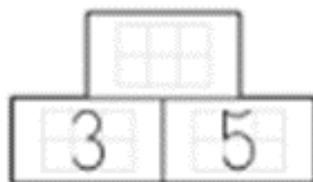
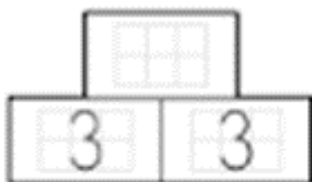


Dodawanie w zakresie 0 - 10

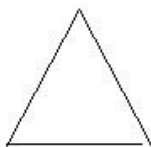

Uzupełnij piramidę według wzoru.

$$\begin{array}{c} 5 \\ 2 + 3 \end{array}$$


Imię:



POLICZ FIGURY GEOMETRYCZNE



















Policz i uzupełnij według wzoru.



  $1 + 2 = 3$
--



  $\square + \square = \square$
--



  $\square + \square = \square$
--



  $\square + \square = \square$
--



  $\square + \square = \square$
--

  $\square + \square = \square$
--

  $\square + \square = \square$
--

  $\square + \square = \square$
--

  $\square + \square = \square$
--

  $\square + \square = \square$
--

 Znajdź i obrysuj wszystkie cyfry.

